

*Всероссийская олимпиада школьников по истории
2023/24 учебный год
Школьный этап*

Задаания для участников 6-х классов

Шифр ИС - 6 - 01

Инструкция по выполнению работ
Время на выполнение работы – 45 минут.
Максимальное количество баллов – 82.

Уважаемый участник!

При выполнении работы внимательно читайте текст заданий. Содержание ответов вписывайте в отведённые поля, записи ведите чётко и разборчиво.

За каждый правильный ответ вы можете получить определённое членами жюри количество баллов, но не выше указанной максимальной оценки. Сумма набранных баллов за все решённые вопросы – итог вашей работы.

Задания считаются выполненными, если Вы вовремя сдали их членам жюри.

Желаем успеха!

Таблица для внесения баллов заполняется членами жюри

1	2	3	4	5	6	7	8	9	10	Сумма баллов	Место
10	18	10	4	11	8	2	3	6	3	73	1

Задание 1. Верны ли следующие утверждения («да» – «нет»)? Ответы внесите в таблицу. *(За каждый верный ответ - 1 балл, всего – 10 баллов)*

- 1.1. В Средние века люди знали только следующие единицы измерения времени: год, сезон, месяц, сутки.
- 1.2. Крестьяне в состав феодальной иерархии не входили.
- 1.3. Правила поведения рыцарей предусматривали совершенное владение чтением.
- 1.4. В мечтах вершилось правосудие.
- 1.5. Подъём культуры в Западной Европе в VIII-IX вв. назывался Каролингским возрождением.
- 1.6. Средневековые люди много путешествовали, что позволяло им составлять точные географические карты.
- 1.7. Земля принадлежала феодалу, а крестьянин являлся лишь её держателем.
- 1.8. Правила поведения рыцарей предусматривали верность сеньору.
- 1.9. Часто в своих мозаичных произведениях мусульмане изображали Аллаха.
- 1.10. Общим признаком Реконкисты и Крестовых походов является стремление освободить Гроб Господень от «псевдных».

Ответ:	1.1	1.2	1.3	1.4	1.5	1.6	1.7	1.8	1.9	1.10
	нет	да	нет	да	да	нет	да	да	нет	нет

Задание 2. Установите соответствие между историческими деятелями и событиями, связанными с ними. Ответы внесите в таблицу. *(За каждый верный ответ - 2 балла, всего – 18 баллов)*

Имя	Событие
А) Александр Македонский	1. Организация библиотеки глиняных книг
Б) Ашшурбанипал	2. Создание древнейших законов
В) Константин	3. Строительство самой длинной стены
Г) Октавиан Август	4. Создание новой религии – буддизма

Д) Соломон	5. Строительство храма бога Яхве в Иерусалиме
Е) Хаммурапи	6. Захват единоличной власти в Риме
Ж) Царевич Гаутама	7. Воспный поход в Индию
З) Цинь Шихуап	8. Разрешение христианам открыто молиться
И) Юлий Цезарь	9. Устаповление империи

Ответ:	А	Б	В	Г	Д	Е	Ж	З	И
	7	1	8	9	5	2	4	3	6

Задание 3. Вставьте вместо пропусков порядковые номера соответствующих слов из предложенного списка. Слова даны в именительном падеже, прилагательные в форме мужского рода. Обратите внимание, в списке слов есть и такие, которые в тексте встречаться не должны. Ответ внесите в таблицу. (За каждый верный ответ - 2 балла, всего - 12 баллов)

В условиях постоянных войн ведущая роль в обществе принадлежала воюющим. Именно они выделяли большей частью ___А 4___ - главной ценностью в средние века. Земля, которую обрабатывали крестьяне, давала её собственникам богатство, власть и престиж. Крестьяне несли повинности в пользу собственников земли - должны были работать на ___Б 7___ и платить ___В 9___. Крупных земельных собственников, владевших феодами и живших за счёт зависимых крестьян, историки называют ___Г 6___. Чтобы распорядиться отрядом конных воинов, крупный феодал делил свой феодал на части и раздавал их воинам - тоже в качестве феодалов. Тот, кто издался феодалом, именовался ___Д 8___, а получивший феодал в обмен на военную службу - ___Е 5___.

Слова: 1. Барщина 2. Феодал 3. Фриики 4. Земля 5. Поместье 6. Феодал 7. Сеньор 8. Вассал 9. Оброк


Ответ:

А	Б	В	Г	Д	Е
4	7	9	6	8	5

Задание 4. Перед нами изображения, связанные с историческими и мифологическими событиями различных стран и государств Древнего мира и Средних веков. Определите, события из истории и культуры каких стран на них изображены и запишите номера картин в таблицу. (За каждый верный ответ - 1 балл. Максимум за задание - 8 баллов).



3



4



5



6



7




8



Ответ:

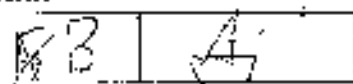
Древний Рим		Древняя Греция		Вавилонское царство		Византийская империя	
1	4	2	5	3	6	7	8

Задание 5. Рассмотрите карту и ответьте на вопросы. Какие суждения, относящиеся к карте, являются верными? (За каждый верный ответ - 3 балла, всего - 4 балла)



- А. На карте представлена территория Фтиакки.
- Б. Одним из правителей указанного государства был Хаммурапи.
- В. В представленном на карте государстве находится одно из семи чудес света.
- Г. Представленное на карте государство захватил Ашока.
- Д. Большое значение в культуре и хозяйстве указанной страны играла река Нил.

Ответ:



Задание 6. Установите соответствие между описаниями государств древности и названиями этих государств. Одно название лишнее. (За каждую верную пару - 2 балла. Максимум за задание - 8 баллов.)

- А. История этого государства началась среди племён, которые подняли восстание против мидийского царя. Захватив одно из трёх великих царств, Кир повёл свои войска на Лидию, а затем пробил час Вавилонии. Наследники Кира Великого не остановились на достигнутом. В итоге в VI веке великая держава простиралась от границ Индии до Египта.
- Б. Это государство в Палестине, куда, согласно Библии, пришёл народ после долгих лет странствий, вело борьбу с филистимлянами. Утисли войны лишь в годы правления царя Соломона.
- В. Правитель этого государства создал свод законов, высеченный на чёрном камне. Их суть сводилась к простому принципу «око за око». Однако распространялось это правило лишь на свободных и равных по положению в обществе людей.
- Г. В этом государстве впервые стали широко использовать конницу для военных походов, а развитие ремесла и распространение железа способствовало укреплению армии. Это позволило воелачальникам захватить огромные территории.

Государства: 1) Древнееврейское царство; 2) Вавилонское царство; 3) Персидская держава; 4) Ассирийская держава; 5) Древнеегипетское царство

Ответ:

А	Б	В	Г
3	1	2	4

Задание 7. Выберите верный ответ. Как с историей Рима связано выражение «гуси спасли Рим»? (За верный ответ – 2 балла. Максимум за задание – 2 балла.)

1. Согласно легенде, гуси своими крыльями укрыли младенцев Ромула и Рема в клену и спасли тех от гибели.
2. Во время нападения Дария Третьего на Рим перышки ему дали отпор «восьмизнаменными войсками» под командованием Ганнибала, на парском гербе которого был изображён гусь.
3. Проснувшись среди ночи гуси предупредили своим криком римских воинов о нападении галлов.
4. Завидев в небе гусиную стаю, римские войска сумели определить сторону наступления войск царя Парра.

Ответ:

3

Задание 8. Установите соответствие между битвами и полководцами, принимавшими в них участие. (По 2 балла за каждое правильное соответствие, всего 8 баллов)

Битва	Правитель
1. Фермопильское сражение	А. Юлий Цезарь
2. Битва при Иссе	Б. Ганнибал
3. Битва при Каннах	В. Александр Македонский
4. Завоевание Заальпийской Галлии	Г. Царь Леонид

Ответ:

1	2	3	4
Г	Б	В	А

Задание 9. Решите задачи на счёт лет в истории. Запишите не только ответ, но и решение. (За каждый верный ответ – 3 балла. Максимум за все задание – 6 баллов)

9.1. Во время нападения македонян в 338 г. до н.э. грек Клеоп зарыл клад, но не вернулся за ним, так как погиб в битве при Херонее. Через 2300 лет клад был найден археологами. В каком году археологи нашли клад?

Ответ:


1962 г.

9.2. Около 2600 г. до н.э. была построена пирамида Хеопса. Сколько лет назад произошло это событие?

Ответ:

4623 г.

Задание 10. Перед вами фотографии памятников, объединённые одной тематикой. Ответьте на вопросы к этим фотографиям. (За каждый верный ответ 3 балла. Максимум за задание - 6 баллов)




1



2



3



4

10.1. Укажите название темы этих памятников.

Ответ:

дети войны / солдаты

3/6

10.2. Какой из памятников находится в Сургуте? Укажите цифру.

Ответ:

4

3/6

Спасибо за участие!

Всероссийская олимпиада школьников по истории
 2023/24 учебный год
 Школьный этап

Задания для участников 6-х классов

Шифр У.С. - 6 - 02

Инструкция по выполнению работ

Время на выполнение работы - 45 минут.

Максимальное количество баллов - 82.

Уважаемый участник!

При выполнении работы внимательно читайте текст заданий. Содержание ответа вписывайте в отведённые поля, записи ведите чётко и разборчиво.

За каждый правильный ответ вы можете получить определённое членами жюри количество баллов, но не выше указанной максимальной отметки. Сумма набранных баллов за все решённые вопросы - итог вашей работы.

Задания считаются выполненными, если Вы вовремя сдали их членам жюри.

Желаем успеха!

Таблица для внесения баллов заполняется членами жюри

1	2	3	4	5	6	7	8	9	10	Сумма баллов	Место
4	18	4	5	4	6	2	3	6	3	63	2

Задание 1. Верны ли следующие утверждения («да» - «нет»)? Ответы внесите в таблицу. (За каждый верный ответ - 1 балл, всего - 10 баллов)

- 1.1. В Средние века люди знали только следующие единицы измерения времени: год, сезон, месяц, сутки.
- 1.2. Крестьяне в состав феодальной иерархии не входили.
- 1.3. Правила поведения рыцарей предусматривали совершенное владение чтеписью.
- 1.4. В мечтах неспитось правосудие.
- 1.5. Подъем культуры в Западной Европе в VIII-IX вв. назывался Каролингским возрождением.
- 1.6. Средневековые люди много путешествовали, что позволило им составлять точные географические карты.
- 1.7. Земля принадлежала феодалу, а крестьянин являлся лишь её держателем.
- 1.8. Правила поведения рыцарей предусматривали верность сеньору.
- 1.9. Часто в своих мозаичных произведениях мусульмане изображали Аллаха.
- 1.10. Общим признаком Реконквисты и Крестовых походов является стремление освободить Гроб Господень от «неверных».

Ответ:	1.1	1.2	1.3	1.4	1.5	1.6	1.7	1.8	1.9	1.10
	да	да	нет	да	да	нет	нет	да	нет	да

Задание 2. Установите соответствие между историческими деятелями и событиями, связанными с ними. Ответы внесите в таблицу. (За каждый верный ответ - 2 балла, всего - 18 баллов)

Имя	Событие
А) Александр Македонский	1. Организация библиотек и глупящих книг
Б) Ашнурбанапат	2. Созданы древнейших законов
В) Константин	3. Строительство самой длинной стены
Г) Октавиан Август	4. Созданы новой религии - буддизма

Д) Соломон	5. Строительство храма бога Яхве в Иерусалиме
Е) Хаммурапи	6. Захват египетской власти в Риме
Ж) Царевич Гаугама	7. Военный поход в Индию
З) Цинь Шягуан	8. Разрешение христианам открыто молиться
И) Юлий Цезарь	9. Установление империи

Ответ:	А	Б	В	Г	Д	Е	Ж	З	И
	7	1	8	9	5	2	4	3	6

Задание 3. Вставьте вместо пропусков порядковые номера соответствующих слов из предложенного списка. Слова даны в именительном падеже, прилагательные в форме мужского рода. Обратите внимание, в списке слов есть и такие, которые в тексте встречаются не должны. Ответ внесите в таблицу. (За каждый верный ответ - 2 балла, всего - 12 баллов)

В условиях постоянных войн ведущая роль в обществе принадлежала воинам. Именно они владели большей частью А - главной ценностью в средние века. Земля, которую обрабатывали крестьяне, давала её собственникам богатство, власть и престиж. Крестьяне несли повинности в пользу собственников земли - должны были работать на Б и платить В. Крупных земельных собственников, владевших феодами и живших за счёт зависимых крестьян, историки называют Г. Чтобы располагать отрядом конных воинов, крупный феодал делил свой феодал на части и раздавал их воинам - тоже в качестве феодалов. Тот, кто наделён феодалом, именовался Д, а получивший феодал в обмен на военную службу - Е.

Слова: 1. Барщина 2. Феодал 3. Франки 4. Земля 5. Поместье 6. Феодал 7. Сеньор 8. Вассал 9. Оброк

Ответ:

А	Б	В	Г	Д	Е
4	9	1	6	8	2

Задание 4. Перед нами изображения, связанные с историческими и мифологическими событиями различных стран и государств Древнего мира и Средних веков. Определите, события из истории и культуры каких стран на них изображены и запишите номера картинок в таблицу. (За каждый верный ответ - 1 балл. Максимум за задание - 8 баллов).



3



4



5




6



7




8



Ответ:

Древний Рим	Древняя Греция	Вавилонское царство	Византийская империя
14	5	6	8
	4	3	7

Задание 5. Рассмотрите карту и ответьте на вопросы. Какие суждения, относящиеся к карте, являются верными? (За каждый верный ответ - 2 балла, всего - 4 балла)



- А. На карте представлена территория Финикии.
- Б. Одним из правителей указанного государства был Хаммурапи.
- В. В представленном на карте государстве находится одно из семи чудес света.
- Г. Представленное на карте государство захватило Ассирию.
- Д. Большое значение в культуре и хозяйстве указанной страны играла река Нил.

Ответ:

В	Д
---	---

Задание 6. Установите соответствие между описаниями государств древности и названиями этих государств. Одно название лишнее. (За каждую верную пару - 2 балла. Максимум за задание - 8 баллов.)

- А. История этого государства началась среди племён, которые подняли восстание против мидийского царя. Захватив одно из трёх великих царств, Кир повёл свои войска на Лидию, а затем пробил чаше Вавилонии. Наследники Кира Великого не остановились на достигнутом. В итоге в VI веке великая держава простиралась от границ Индии до Египта.
- Б. Это государство в Палестине, куда, согласно Библии, пришёл народ после долгих лет странствий, вело борьбу с филистимлянами. Утихли войны лишь в годы правления царя Соломона.
- В. Правитель этого государства создал свод законов, высеченный на чёрном камне. Их суть сводилась к простому принципу «око за око». Однако распространялось это правило лишь на свободных и равных по положению в обществе людей.
- Г. В этом государстве впервые стали широко использовать конницу для военных походов, а развитие ремесла и распространение железа способствовало укреплению армии. Это позволило военачальникам захватывать огромные территории.

Государства: 1) Древнееврейское царство; 2) Вавилонское царство; 3) Персидская держава; 4) Ассирийская держава; 5) Древнесицилийское царство

Ответ:

А	Б	В	Г
3	1	5	4

Задание 7. Выберите правильный ответ. Как с историей Рима связано выражение «Гуси спасли Рим»? (За верный ответ - 2 балла. Максимум за задание - 2 балла.)

1. Согласно легенде, гуси своими крыльями укрыли младенцев Ромула и Рема в хлеву и спасли тех от гибели.
2. Во время нападения Дария Третьего на Рим первыми смутами отпор «восьмизнаменные войска» под командованием Ганнибала, на царском гербе которого был изображён гусь.
3. Проступившие среди ночи гуси предупредили своим криком римских воинов о нападении галтов.
4. Завидев в небе гусиную стю, римские войска сумели определить сторону наступления войск царя Пирра.

Ответ: 3.

Задание 8. Установите соответствие между битвами и полководцами, принимавшими в них участие. (По 2 балла за каждое правильное соответствие, всего 8 баллов)

Битва	Правитель
1. Фермопильское сражение	А. Юлий Цезарь
2. Битва при Иссе	Б. Ганнибал
3. Битва при Камбах	В. Александр Македонский
4. Завоевание Заальпийской Галлии	Г. Царь Леонид

Ответ:

1	2	3	4
Г	Б	В	А

Задание 9. Решите задачи на счет лет в истории. Запишите не только ответ, но и решение. (За каждый верный ответ - 3 балла. Максимум за все задание - 6 баллов)

9.1. Во время нападения македонян в 338 г. до н.э. грек Клеон зарыл клад, но не вернулся за ним, так как погиб в битве при Херониссе. Через 2300 лет клад был найден археологами. В каком году археологи нашли клад?

Ответ: (н.э.)

$$338 + 2300 = 1962 \text{ (г.) н.э.}$$

Решение: в 1962 году (н.э.)

9.2. Около 2600 г. до н.э. была построена пирамида Хеопса. Сколько лет назад произошло это событие?

Ответ: (н.э.)

$$2600 + 2023 = 4623 \text{ (года) н.э.}$$

Решение: 4623 года назад

Задание 10. Перед вами фотографии памятников, объединенные единой тематикой. Ответьте на вопросы к этим фотографиям. (За каждый верный ответ – 3 балла. Максимум за задание – 6 баллов)



1



2



3



4

10.1. Укажите название темы этих памятников.

Ответ:

Памятник «Революция»

10.2. Какой из памятников находится в Сургуте? Укажите цифру.

Ответ:

4

Спасибо за участие!

*Всероссийская олимпиада школьников по истории
2023/24 учебный год
Школьный этап*

Задания для участников 6-х классов

Шифр ИС - 6 - 04

Инструкция по выполнению работ
Время на выполнение работы – 45 минут.
Максимальное количество баллов – 82.

Уважаемый участник!

При выполнении работы внимательно читайте текст заданий. Содержание ответа вписывайте в отведённые поля, записи ведите чётко и разборчиво.

За каждый правильный ответ вы можете получить определённое членами жюри количество баллов, но не выше указанной максимальной оценки. Сумма набранных баллов за все решённые вопросы – итог вашей работы.

Задания считаются выполненными, если Вы вовремя сдали их членам жюри.

Желаем успеха!

Таблица для вписания баллов заполняется членами жюри

1	2	3	4	5	6	7	8	9	10	Сумма баллов	Место
4	8	10	2	4	8	2	4	6	3	54	3

Задание 1. Верны ли следующие утверждения («да» – «нет»)? Ответы внесите в таблицу. (За каждый верный ответ – 1 балл, всего – 10 баллов)

- 1.1. В Средние века люди знали только следующие единицы измерения времени: год, сезон, месяц, сутки.
- 1.2. Крестьяне в состав феодальной иерархии не входили.
- 1.3. Правила поведения рыцарей предусматривали совершенное владение чтепнем.
- 1.4. В мечетях вершилось правосудие.
- 1.5. Подъём культуры в Западной Европе в VIII-IX вв. назывался Каролингским возрождением.
- 1.6. Средневековые люди много путешествовали, что позволяло им составлять точные географические карты.
- 1.7. Земля принадлежала феодалу, а крестьянин являлся лишь её держателем.
- 1.8. Правила поведения рыцарей предусматривали верность сеньору.
- 1.9. Часто в своих мозаичных произведениях мусульмане изображали Аллаха.
- 1.10. Общим признаком Реконквисты и Крестовых походов является стремление освободить Гроб Господень от «неверных».

Ответ:	1.1	1.2	1.3	1.4	1.5	1.6	1.7	1.8	1.9	1.10
	да	нет	нет	нет	да	да	нет	да	да	нет

Задание 2. Установите соответствие между историческими деятелями и событиями, связанными с ними. Ответы внесите в таблицу. (За каждый верный ответ – 2 балла, всего – 18 баллов)

Имя	Событие
А) Александр Македонский	1. Организация библиотеки глиняных книг
Б) Ашшурбанапал	2. Создание древнейших законов
В) Константин	3. Строительство самой длинной стены
Г) Октавиан Август	4. Создание новой религии – буддизма

Д) Соломон	5. Строительство храма бога Яхве в Иерусалиме
Е) Хаммурапи	6. Захват единоличной власти в Риме
Ж) Царевич Гаутама	7. Военный поход в Индию
З) Цинь Шихуан	8. Разрешение христианам открыто молиться
И) Юлий Цезарь	9. Установление империи

Ответ:	А	Б	В	Г	Д	Е	Ж	З	И
	7	1	5	8	2	9	4	3	6

Задание 3. Вставьте вместо пропусков порядковые номера соответствующих слов из предложенного списка. Слова даны в именительном падеже, прилагательные в форме мужского рода. Обратите внимание, в списке слов есть и такие, которые в тексте встречаться не должны. Ответ вносите в таблицу. (За каждый верный ответ - 2 балла, всего - 12 баллов)


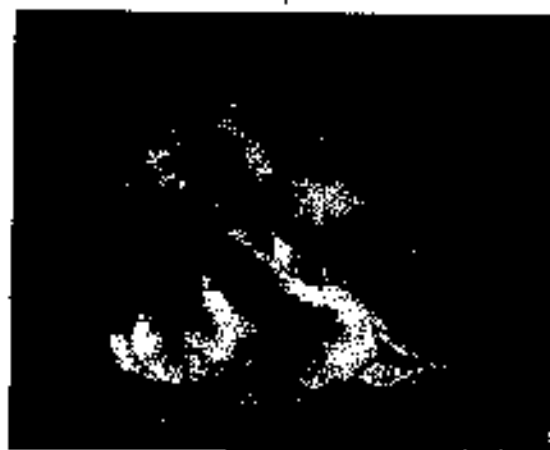
В условиях постоянных войн ведущая роль в обществе принадлежала воюющим. Именно они владели большей частью А - главной ценностью в средние века. Земля, которую обрабатывали крестьяне, давала её собственникам богатство, власть и престиж. Крестьяне платили новинности в пользу собственников земли Б и должны были работать на В и платить Г. Крупных земельных собственников, владевших феодами и живших за счёт зависимых крестьян, историки называют Д. Чтобы расплагаться отрядом копейных воинов, крупный феодал делил свой феодал на части и раздавал их воинам Е также в качестве феодалов. Тот, кто наделял феодалом, именовался Д, а получивший феодал в обмен на вооруженную службу — Е.

Слова: 1. Барщина 2. Феодал 3. Фрэнкя 4. Земля 5. Поместье 6. Феодал 7. Сеньор 8. Вассал 9. Оброк.

Ответ:

А	Б	В	Г	Д	Е
2	1	9	6	7	8

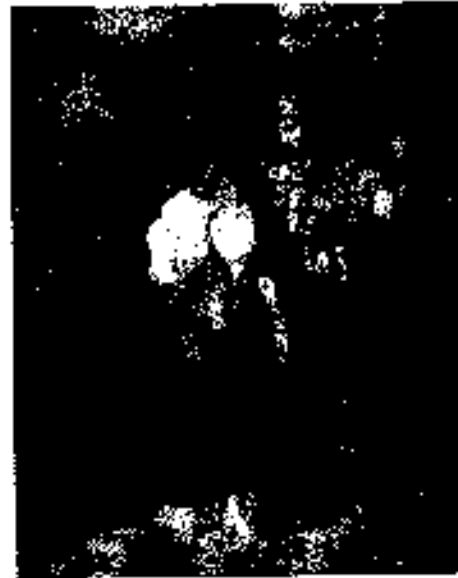
Задание 4. Перед вами изображения, связанные с историческими и мифологическими событиями различных стран и государств Древнего мира и Средних веков. Определите, события из истории и культуры каких стран на них изображены и запишите номера картин в таблицу. (За каждый верный ответ - 1 балл. Максимум за задание - 8 баллов).



3



4



5



6



7



8



Отвѣт:

Древний Рим	Древняя Греция	Вавилонское царство	Византийская империя
6	5	7	8

Задание 5. Рассмотрите карту и ответьте на вопросы. Какие суждения, относящиеся к карте, являются верными? (За каждый верный ответ - 2 балла, всего - 4 балла)



- А. На карте представлена территория Финикии.
- Б. Одним из правителей указанного государства был Хаммурапи.
- В. В представленном на карте государстве находится одно из семи чудес света.
- Г. Представленное на карте государство захватил Ашока.
- Д. Большое значение в культуре и хозяйстве указанной страны играла река Нил.

Ответ:

В

Д

Задание 6. Установите соответствие между описаниями государств древности и названиями этих государств. Одно название лишнее. (За каждую верную пару - 2 балла. Максимум за задание - 8 баллов.)

- А. История этого государства началась среди племён, которые подняли восстание против индийского царя. Захватив одно из трёх великих царств, Кир повёл свои войска на Индию, а затем пробил час Вавилонии. Наследники Кира Великого не остановились на достигнутом. В итоге в VI веке великая держава простиралась от границ Индии до Гвинеи.
- Б. Это государство в Палестине, куда, согласно Библии, пришёл народ после долгих лет страданий, вело борьбу с филистимлянами. Утихла война лишь в годы правления царя Соломона.
- В. Правитель этого государства создал свод законов, высеченный на чёрном камне. Их суть сводилась к простому принципу «око за око». Однако распространялось это правило лишь на свободных и равных по положению в обществе людей.
- Г. В этом государстве впервые стали широко использовать конницу для военных походов, а развитие ремесла и распространение железа способствовало укреплению армии. Это позволило воепачатникам захватить огромные территории.

Государства: 1) Древнесврейское царство; 2) Вавилонское царство; 3) Персидская держава; 4) Ассирийская держава; 5) Древнеегипетское царство

Ответ:

А	Б	В	Г
3	1	2	4

Задание 7. Выберите верный ответ. Как с историей Рима связано выражение «Гуси спасли Рим»? (За верный ответ – 2 балла. Максимум за задание – 2 балла.)

1. Согласно легенде, гуси своими крыльями укрыли младенцев Ромула и Рема в хлеву и спасли их от гибели.
2. Во время нападения Дария Третьего на Рим первыми ему дали отпор «восемьзнаменные войска» под командованием Ганнибала, на царском гербе которого был изображён гусь.
3. Проснувшись среди ночи гуси предупредили своим криком римских воинов о нападении саппов.
4. Завидев в небе гусиную стаю, римские войска сумели определить сторону наступления войск царя Пирра.

Ответ: 3

Задание 8. Установите соответствие между битвами и полководцами, принимавшими в них участие. (По 2 балла за каждое правильное соответствие, всего 8 баллов)

Битва	Принитель
1. Фермопильское сражение	А. Юлий Цезарь
2. Битва при Иссе	Б. Ганнибал
3. Битва при Каннах	В. Александр Македонский
4. Завоевание Заальпийской Галлии	Г. Царь Леонид

Ответ:

1	2	3	4
А	Б	В	Г

Задание 9. Решите задачи на счет лет в истории. Запишите не только ответ, но и решение. (За каждый верный ответ – 3 балла. Максимум за все задание – 6 баллов)

9.1. Во время нападения македонян в 338 г. до н.э. грек Клеоп зарыл клад, но не вернулся за ним, так как погиб в битве при Херонее. Через 2300 лет клад был найден археологами. В каком году археологи нашли клад?

Ответ:

1962. 2000

9.2. Около 2600 г. до н.э. была построена пирамида Хеопса. Сколько лет назад произошло это событие?

Ответ:

4625 лет назад

Задание 10. Перед вами фотографии памятников, объединенные единой тематикой. Ответьте на вопросы к этим фотографиям. (За каждый верный ответ – 3 балла. Максимум по заданию – 6 баллов)




1



2



3



4

10.1. Укажите название темы этих памятников.

Ответ:

10.2. Какой из памятников находится в Сургуте? Укажите цифру.

Ответ:

4

Спасибо за участие!

*Всероссийская олимпиада школьников по истории
2023/24 учебный год
Школьный этап*

Задания для участников 6-х классов

Шифр ИС - 6 - 03

Инструкция по выполнению работ
Время на выполнение работы – 45 минут.
Максимальное количество баллов – 82.

Уважаемый участник!

При выполнении работы внимательно читайте текст заданий. Содержание ответа вписывайте в отведённые поля, записи ведите чётко и разборчиво.

За каждый правильный ответ вы можете получить определённое членами жюри количество баллов, но не влийте указанной максимальной оценки. Сумма набранных баллов за все решённые вопросы – итог вашей работы.

Задания считаются выполненными, если Вы вовремя стали их членам жюри.

Желаем успеха!

Таблица для внесения баллов заполняется членами жюри

1	2	3	4	5	6	7	8	9	10	Сумма баллов	Место
6	12	8	2	4	4	2	6	3	3	50	

Задание 1. Верны ли следующие утверждения («да» «нет»)? Ответы впишите в таблицу. (За каждый верный ответ – 1 балл, всего – 10 баллов)

- 1.1. В Средние века люди знали только следующие единицы измерения времени: год, сезон, месяц, сутки.
- 1.2. Крестьяне в состав феодальной иерархии не входили.
- 1.3. Правила поведения рыцарей предусматривали совершенное владение чтением.
- 1.4. В мечетях вершилось правосудие.
- 1.5. Подъем культуры в Западной Европе в VIII-IX вв. называется Каролингским возрождением.
- 1.6. Средневековые люди много путешествовали, что позволяло им составлять точные географические карты.
- 1.7. Земля принадлежала феодалу, а крестьянин является лишь её держателем.
- 1.8. Правила поведения рыцарей предусматривали верность сеньору.
- 1.9. Часто в своих мозаичных произведениях мусульмане изображали Аллаха.
- 1.10. Общим признаком Реконквисты и Крестовых походов является стремление освободить Гроб Господень от «неверных».

Ответ:	1.1	1.2	1.3	1.4	1.5	1.6	1.7	1.8	1.9	1.10
	нет	да	да	да	нет	нет	да	да	да	да

Задание 2. Установите соответствие между историческими деятелями и событиями, связанными с ними. Ответы внесите в таблицу. (За каждый верный ответ – 2 балла, всего – 18 баллов)

Имя	Событие
А) Александр Македонский	1. Организация библиотек и книжных клубов
Б) Ашшурбанпал	2. Создание древнейших законов
В) Константин	3. Строительство самой длинной степи
Г) Октавиан Август	4. Создание новой религии – буддизма

Д) Соломон	5. Строительство храма бога Яхве в Иерусалиме
Е) Хаммурапи	6. Захват единоличной власти в Риме
Ж) Царевич Гаутама	7. Воспый поход в Индию
З) Цинь Шяуан	8. Разрешение христианам открыто молиться
И) Юлий Цезарь	9. Устапование империи

Ответ:	А	Б	В	Г	Д	Е	Ж	З	И
	7	1	3	8	5	4	4	3	6

Задание 3. Вставьте вместо пропусков порядковые номера соответствующих слов из предложенного списка. Слова даны в именительном падеже, прилагательные в форме мужского рода. Обратите внимание, в списке слов есть и такие, которые в тексте встречаться не должны. Ответ внесите в таблицу. (За каждый верный ответ - 2 балла, всего - 12 баллов)



В условиях постоянных войн ведущая роль в обществе принадлежала воюющим. Империи или владели большей частью А. ___ - главной ценностью в средние века. Земля, которую обрабатывали крестьяне, давала её собственникам богатство, власть и престиж. Крестьяне несли повинности в пользу собственников земли - должны были работать на Б. ___ и платить В. ___. Крупных земельных собственников, владевших феодами и живших за счёт зависимых крестьян, историки называют Г. ___. Чтобы располагать отрядом конных воинов, крупный феодал делил свой феодал на части и раздавал их воинам - тоже в качестве феодалов. Тот, кто наделял феодалом, именовался Д. ___, а получивший феодал в обмен на военную службу - Е. ___.

Слова: 1. Барщина 2. Феодал 3. Франки 4. Земля 5. Поместье 6. Феодал 7. Сеньор 8. Вассал 9. Оброк

Ответ:

А	Б	В	Г	Д	Е
4	3	1	6	7	8

Задание 4. Перед вами изображения, связанные с историческими и мифологическими событиями различных стран и государств Древнего мира и Средних веков. Определите, события из истории и культуры каких стран на них изображены и запишите номера картинок в таблицу. (За каждый верный ответ - 1 балл. Максимум за задание - 8 баллов).



3



4



5



6



7



8



Ответ:

Древний Рим	Древняя Греция	Вавилонское царство	Византийская империя
5	—	6	—

Задание 5. Рассмотрите карту и ответьте на вопросы. Какие суждения, относящиеся к карте, являются верными? (За каждый верный ответ – 2 балла, всего – 4 балла)



- А. На карте представлена территория Финикии.
- Б. Одним из правителей указанного государства был Хаммурапи.
- В. В представленном на карте государстве находился одно из семи чудес света.
- Г. Представленное на карте государство захватил Ашока.
- Д. Большое значение в культуре и хозяйстве указанной страны играла река Нил.

Ответ:

Б	В
---	---

Задание 6. Установите соответствие между описаниями государств древности и названиями этих государств. Одно название лишнее. (За каждую верную пару – 2 балла. Максимум за задание – 4 балла.)

- А. История этого государства началась среди племян, которые подняли восстание против мидийского царя. Захватив одно из трёх великих царств, Кир повёл свои войска на Индию, а затем пробил чаш Вавилопии. Наследники Кира Великого не остановились на достигнутом. В итоге в VI веке великая держава простиралась от границ Индии до Египта.
- Б. Это государство в Палестине, куда, согласно Библии, пришёл народ после долгих лет страстений, вело борьбу с филистимлянами. Утикли войны лишь в годы правления царя Соломона.
- В. Правитель этого государства создал свод законов, высеченный на чёрном камне. Их суть сводилась к простому принципу «око за око». Однако распространялось это правило лишь на свободных и равных по положению в обществе людей.
- Г. В этом государстве впервые стали широко использовать конницу для военных походов, а развитие ремесла и распространение железа способствовало укреплению армии. Это позволило военачальникам захватить огромные территории.

Государства: 1) Древнесврейское царство; 2) Вавилонское царство; 3) Персидская держава; 4) Ассирийская держава; 5) Древнеегипетское царство

Ответ:

А	Б	В	Г
3	1	4	2

Задание 7. Выберите верный ответ. Как с историей Рима связано выражение «Гуси спасли Рим»? (За верный ответ – 2 балла. Максимум за задание – 2 балла.)

1. Согласно легенде, гуси своими крыльями укрыли младенцев Ромула и Рема в хлеву и спасли тех от гибели.
2. Во время нападения Дария Третьего на Рим первыми сму дали отпор «восемьзнаменные войска» под командованием Ганнибала, на парском гербе которого был изображён гусь.
3. Проснувшись среди ночи гуси предупредили своим криком римских воинов о нападении галлов.
4. Завидев в небе гусиную стаю, римские войска сумели определить сторону наступления войск царя Нирра.

Ответ: 3

Задание 8. Установите соответствие между битвами и полководцами, принимавшими в них участие. (По 2 балла за каждое правильное соответствие, всего 8 баллов)

Битва	Провитель
1. Фермопильское сражение	А. Юлий Цезарь
2. Битва при Иссе	Б. Ганнибал
3. Битва при Каппах	В. Александр Македонский
4. Завоевание Западной Галлии	Г. Царь Леопид

Ответ:

1	2	3	4
Г	Б	В	А

Задание 9. Решите задачи на счет лет в истории. Запишите не только ответ, но и решение. (За каждый верный ответ – 3 балла. Максимум за все задание – 6 баллов)

9.1. Во время нападения македонян в 338 г. до н.э. грек Класон зарыл клад, но не вернулся за ним, так как погиб в битве при Херопее. Через 2300 лет клад был найден археологами. В каком году археологи нашли клад?

Ответ:

$$2300 - 338 = 1962 \text{ г.}$$

9.2. Около 2600 г. до н.э. была построена пирамида Хеопса. Сколько лет назад произошло это событие?

Ответ:

Задание 10. Перед вами фотографии памятников, объединенные единой тематикой. Ответьте на вопросы к этим фотографиям. (За каждый верный ответ – 3 балла. Максимум за задание – 6 баллов)



1



2



3



4

10.1. Укажите название темы этих памятников.

Ответ:

Патриотическая в честь героев войны

10.2. Какой из памятников находится в Сургуте? Укажите цифру.

Ответ:

4

Спасибо за участие!

Всероссийская олимпиада по истории
2023–2024 учебный год
Школьный этап

7 класс

Шифр И-7-8

Уважаемый участник!

Время на выполнение работы – 90 минут.

Максимальное количество баллов – 100.

При выполнении работы внимательно читайте текст заданий.

Содержание ответов вписывайте в отведённые поля, записи ведите чётко и разборчиво.

Сумма набранных баллов за все решённые вопросы – итог нашей работы.

Задания считаются выполненными, если вы вовремя сдали их членам жюри.

Желаем успеха!

Таблица для внесения баллов заполняется членами жюри

1	2	3	4	5	6	7	8	9	10	11	12	13	Сумма баллов	Место
10	9	9	6	6	4	5	6	0	0	0	0	0	52	

Задание 1. Выберите правильный ответ. Ответ впишите в клетку. (По 3 балла за правильный ответ. Максимум 10 баллов.)

1.1. Прочтите отрывок из источника и укажите название документа, с которым он связан.

«Если холит (рыб, ловящий человек) удочит свободного мунга и скроется о лором своего господина, а тот не захочет его выдать, то окладывает холца у себя и платит оскорбиданну (2 гривен) и затем, если он непременно ударит оскорбителя (холопа), то вправе побить его».

- 1) Русская Правда; 2) Судебник 1497 г.;
3) Силачская Правда; 4) Вельяминовская хартия вольностей

1.2. Стремление укрепить государственную власть заставило князя Владимира:

- 1) упредить налоги и уроки; 2) принять христианство;
3) создать «Русскую Правду»; 4) убить киевских князей Аскольда и Дира.

1.3. Кому князь отдаёт слова?

«Англичане будут известны во Францию, кроме тех кто найдёт здесь гибель... Все познает французская победа над англичанами!»

- 1) Жанне д'Арк; 2) Чёрному крестцу; 4) Лодовику XI; 3) Хлодвигу.

1.4. Прочитайте отрывок из произведения древнерусской литературы и укажите название этого произведения.

«В лето 862. Изгнаша варягов за море, и не дали им даша, и сами сами собою избраша, и не было среди них князя, и встал род на род, и была у них усобища, и стали восвать друг о другом. И сказал себе:

- Поищем себе князя, который бы владел нами и судил по праву.

И пошла за море к варягам, к руси. Сказали руси чудь, словене, кривичи и весь:

- Земля наша велика и обильна, а порядка в ней нет. Приходите княжить и владеть нами!

И избраше трие брата со своими роудом, и пришли, сел старший Рюрик в Новгороде, а другой, Синеус, на Белоозере, и третий Трувор - в Изборске. И из тех варягов прозвашася Русская земля».

- 1) «Поучение (детям); 2) «Апостол»;
3) «Русская правда»; 4) «Повесть временных лет».

1.5. Прочитайте фрагмент исторического источника и определите, в каком историческом событии идёт речь.

*«О, дочь Аппия была безумна,
Сидя себя держала в иступлении;
Брат брата убивал в слепом биие.
Отец убийцей был родного сына.
Сын по приказу убивал отца.
Появились в том Йорки и Линкастеры:
Раздор их дисий ужас на части мьр».*

- 1) Столетняя война; 2) Реконкиста;
 3) Война Алой и Белой розы; 4) Русское движение.

Ответы:

1	2	3	4	5
1	2	1	4	3

Задание 2. Выберите несколько правильных вариантов ответов на поставленные вопросы. Ответ впишите в таблицу. (3 балла за количество верной ответ: 1 балл за ответ с одной ошибкой (не указан один из верных ответов или наоборот) с указанными всеми верными ответами; при этом одна неверный). Всего за задания 9 баллов)

2.1. Кто из указанных деятелей культуры и науки жил в эпоху расцвета Возрождения?

- 1) Иоганн Гутенберг; 2) Франческо Петрарка; 3) Авиценна;
 4) Сандро Боттичелли; 5) Альберт Эйнштейн; 6) Ашугин.

2.2. Какие из категорий населения, перечисленных в «Русской Правде», относятся к лишним в толпе?

- 1) дружинники; 2) рядовые; 3) оштрафованные; 4) холопы; 5) мужи; 6) закупы

2.3. Выберите из «Правды» Ярославичей, относящиеся к XIII в.

- 1) создание «Правды» Ярославичей; 2) Ледовое побоище;
 3) Куликовская битва; 4) Новгородская битва;
 5) битва на реке Сить; 6) съезд князей в Любече.

Ответы:

1	2	3
1, 2, 4	2, 4, 6	2, 4, 5

Задание 3. Что с исторической точки зрения объединяет перечисленные в ряду элементы? (10 3 балла за каждый верный ответ. Максимум за задание 9 баллов)

3.1. Дмитрий Иванович, Дмитрий Лобок, Владимир Андреевич Серпуховской

Ответ: Князь владимирская династия 3, 2.

Срибор, Порун, Янито.

Ответ: Богги восточных славян

3.3. 1478 г., 1485 г., 1510 г.

Ответ: увеличение Московского княжества

Задание 4. Выберите лишний элемент из предложенного списка и поясните свой выбор. (10 3 балла за каждый верный ответ. Всего за задание 6 баллов)

4.1. Дреговичи, поляне, древляне, половцы.

Ответ: древляне - карелы, перелесен, октябрьские восточные славяне.

4.2. Баскки, ярыги, нене, шадд.

Ответ: Баскки - неградоное собрание у восточных славян, октябрьские древнерусские шадд.

Задание 5. Расположите события в хронологической последовательности. Ответ впишите в таблицу. (6 баллов за количество верную последовательность 3 балла за последовательность с одной ошибкой 0 баллов, если допущено более одной ошибки)

- А) начало правления Юрия III; Б) провозглашение Карла Великого императором; В) языческая реформа князя Владимира;
 Г) захват Константинополя турками; Д) первое упоминание о Москве в летописи; Е) принятие Сулобитка при Юрии III. Ответы:

1	2	3	4	5	6
Б	В	Д	Г	А	Е

Задание 6. Установите соответствие между событиями и древнерусскими князьями, к чьей приписке они относятся. В черные справа есть типичные характеристики

(1 балл за каждое верное соответствие. Максимум 4 балла)

СОБЫТИЯ	ДРЕВНЕРУССКИЕ КНЯЗЬЯ
---------	----------------------

А) введение поборов и уроков	1) Олег
Б) объединение Новгорода и Киева под властью одного правителя	2) Владимир Мономах
В) разгром печенегов	3) Ярослав Мудрый
Г) съезд князей в Тибете	4) Святослав Игоревич
	5) Ольга

Ответы:

А	Б	В	Г
3	1	5	2

Задание 7. Прочитайте текст и выберите правильный вариант из предложенного списка. Заполните таблицу. (1 балл за каждый верный ответ. Максимум 6 баллов)

Московский престол перешёл к Ивану Даниловичу Калите в (1) (1380 году, 1325 году, 1340 году). В 1327 году встал вопрос о сестанно в (2) (Новгороде, Твери, Рязани) против насаждений чингизидов князя Чолхана. Предметный басилк и почти все его вошда были перебиты. Иван Калита немедленно воспользовался ситуацией. Вместе с другими русскими князьями он отправился к (3) (Чингисхану, Батю, Улугу). На Русь они вернулись с ордынским отрядом, который вместе с дружинами князей обручился на Тверь. Вскоре Иван Калита за это получил (4) (поместье, кормление, ярлык). летописец говорит о правлении Калиты: «...быва оттоле лишша великая на (5) (50 лет, 40 лет, 90 лет), и церестали поганые воевать Русскую землю и убивать христиан». Иван Калита зимой 1339-1340 гг. укрепил Московский Кремль (6) (дубовыми стенами, красным кирпичом, белым камнем).

Ответы:

1	2	3	4	5	6
1325	Тверь	Улугу	ярлык	40 лет	белым камнем

Задание 8. Изучите и рассмотрите карту «Российское государство во второй половине XV - начале XVI века» и выполните задания. (Максимум 12 баллов)



8.1. Напишите имя русского полководца XIII в., одержавшего победы над враждебными в сражениях, отмеченных на карте цифрами «1» и «2». (2 балла)

Ответ: Александр Невский

8.2. Напишите цифру, которой обозначен город, в XIII в. героически оборонявшийся от захватчиков во главе с полководцем боярином Давидом (Дмитрием). (2 балла)

Ответ: 2

8.3. Напишите название реки, на которой в 1233 г. произошла первая встреча русских войск с степными кочевниками. (2 балла)

Ответ: Калка

8.4. Напишите, когда произошла битва, отмеченная на карте цифрой «3». (2 балла)

Ответ: 1240

(Максимум 8 баллов)

8.5. Какие суждения относятся к событиям, обозначенным на схеме стрелками, являются верными. Выберите четыре суждения из восьми предложенных. Запишите цифры, под которыми они указаны. (По 1 баллу за каждый верный ответ. Всего 4 балла)

1) Первым русским городом, принявшим на себя удар монголо-татар под командованием хана Батые в 1237 г., была Рязань.

2) После ухода монголо-татарского войска из разгромленной Рязани, захватчики подвергли население города жестоким казням командовавшего разгромом боярина Евпатия Коловрата.

3) На территории Владимиро-Суздальского княжества монголы потеряли свои первые поражения от войск князя Юрия Всеволодовича.

4) Псков сумел отстоять свою независимость в период вторжения рыцарей Ливонского ордена на русские земли в первой половине XIII в.

5) Столицей образовавшейся Золотой Орды стал в 1243 г. город Сарай (Сараи-Бату)

6) Сражение, отмеченное на карте цифрой «4» произошло в один год с героической обороной и падением Киева.

7) В 1238 году состоялась битва на реке Сить.

8) Киев был захвачен монголо-татарами в 1238 году.

Ответы:

--	--	--	--

Задание 9. Перед вами изображены исторические события, определите какое событие изображено и укажите его дату с точностью до года. (По 1 баллу за каждый верный ответ. Максимум - 8 баллов).



3



4



Ответы:

№	Событие	Цели
1		
2		
3		
4		

Задание 10. По этапам жизни исторических персонажей определите, о ком речь.
По 2 балла за каждую правильно названную историческую личность. Всего 4 балла

10.1. Кто это?



- прославившаяся ее битва произошла под Ореховом;
- ее объявили кощункой и преданы церковному суду, а чепчре с половиной века спустя вошли в раунт католической святой;
- по официальной версии они публично сожжены в Рузье 12 мая 1421 года.

10.2. Кто это?

- Князь - полководец
- «Иду на вы»
- Разгромил Хазарский каганат
- Необычная посмертная судьба


Задание 11. Заполните таблицу: укажите имя правителя, название архитектурных памятников, которые были заложены или построены во время их правления, город, в котором находится каждый представленный памятник архитектуры. *(По 1 баллу за каждый компонент. Максимум 16 баллов)*

Правители

1	2
	
3	4



Памятники архитектуры



Отгадайте:

№ номера правителя	Имя правителя	№ памятника архитектуры	Писание памятника архитектуры	В каком городе находится (название)
1				
2				
3				
4				

Задание 12. Напишите термин. (По 2 балла за каждый правильный ответ. Максимум 4 балла)

12.1. Метрология – это наука, изучающая меру длины, веса, объема. Перед вами загадка из области метрологии.

Эта старинная единица измерения длины носил шиваше той части тела, которую, судя по известной поговорке, пехоможки укусила. Назовите эту меру длины, которой пользовались наши предки.

Ответ:


12.2. Разгадайте шарду.

Первое - небольшой ресторан, где посетителей обслуживают за стойкой,

- второе - русское национальное блюдо,
- третье - предлог,
- целое слово - одна из феодалных повинностей.

Ответ: _____

Задание 13. Рассмотрите гербы городов Югры и ответьте на вопросы (2 балла за каждый правильный ответ, максимум 6 баллов)



13.1. Выпишите букву, обозначающую герб города, название которого в переводе означает «рыбное место».

Ответ: _____

13.2. В каком году был основан этот город, как он называется?

Ответ: _____

13.3. Какие знаменитые люди жили (живут) в этом городе?

Ответ: _____

Максимальное количество баллов за все задания – 100

8 класс

Шифр АС - 8 - 07

Инструкция по выполнению работ

Время на выполнение работы - 90 минут.

Максимальное количество баллов - 100.

Вам предлагается выполнить задания школьного этапа Олимпиады. Просим внимательно прочесть формулировку каждого задания, чтобы дать ответ на поставленные вопросы в той форме, которую предполагает каждое задание. Успехов Вам в выполнении работы!

Задание № 1. Выберите один правильный ответ. Впишите ответы в таблицу.

1.1. В каком году произошли описанные события?

«Польки понесли такую значительную потерю, - писал польский историк XVII в. Кобернжский, что ее ничем пользы было возградить. Колесо фортуны повернулось, и падежда овладеет целым Московским государством рушилась невозвратна... Остатки польского гарнизона в Кремле, доведенные до отчаяния голодом, капитулировали. Освобождение российской столицы от интервентов создало условия для восстановления в стране государственной власти».

- А) 1611 г. Б) 1612 г. В) 1610 г. Г) 1558 г.

1.2. Определите по приведенному отрывку, в каком историческом событии идет речь?

«...с возгласом «Братья мои и друзья, держайте!» выехал вождь Боброк. Русские воины выехали из дубравы как выдержанные концы ударяют в стаи гусиные, высоко подняли знамена грозным поведением. Были же воины свирепы, как львы, нагавшие на овечьи стада. Яростный удар Засаженного щюка во фланг и тыл падающим черетомли ход битвы».

- А) Невская битва Б) Битва на р. Сить В) Куликовская битва Г) Ледовое побоище.

1.3. Назовите фамилию государственного, военного и политического деятеля, одного из самых приближенных опричников Ивана Грозного?

- А) Скуратов Б) Шуйский В) Алашев Г) Шереметьев

1.4. В каком году Астраханское ханство было окончательно присоединено к России?

- А) 1547 г. Б) 1552г. В) 1556 г. Г) 1549 г.

1.5. При каком князе во Владимире было начато строительство Успенского собора?

- А) при Юрии Долгоруком В) при Всеволоде Большое Гнездо
Б) при Андрее Боголюбском Г) при Святославе Ярославиче

Ответ:

- 1.1.	_____	+ 1.2.	_____	+ 1.3.	_____	÷ 1.4.	_____	1.5.	_____
_____	_____	_____	_____	_____	_____	_____	_____	_____	_____

85

Критерии оценивания: за каждый верный ответ - 2 балла, всего - 10 баллов.

Задание № 2. Какое из перечисленных понятий (имён, дат, событий) является лишним в данном ряду? Лишнее слово или словосочетание зачеркните. Укажите, по какому признаку образован каждый ряд, то есть кратко поясните, что объединяет события (понятия, имена, даты).

А) япон. терлик, фериаль, царча

Б) 1648г., 1550г., 1650г., 1662г., 1667-1671г. 1647г.

В) Древляне, бужаки, вягичи, дрег овичи, днеляте критичи

Г) каждый Руси _____

85

Г) А.Ф. Адашев, Сильвестр-М.И. Воротынский, А.М. Курбский, И.В. Шереметев, И.М. Висковский, В. Шуйский

Ответ: Иван Грозный

Критерии оценивания: за каждый верный ответ - 4 балла, всего 16 баллов.

Задание № 3. Выберите три правильных ответа на каждый вопрос. Впишите ответы в таблицу.

3.1. К основным причинам кризисных походов относятся:

- 1) распространение культуры Возрождения
- 2) стремлением освободить Святую землю
- 3) противоречия между католиками и протестантами
- 4) бедственным положением, сложившимся в Европе в результате экономического кризиса и демографической ситуации
- 5) распространение арабами своей веры
- 6) желанием распространить влияние католической Церкви на восток

3.2. Какие современные народы относятся к толкым славянам?

- 1) чехи
- 2) поляки
- 3) словаки
- 4) черigoицы
- 5) хорваты
- 6) болгары

3.3. Какие из перечисленных племен относятся к древнегерманским племенам?

- 1) гевтоны
- 2) вятичи
- 3) вестготы
- 4) остготы
- 5) кривичи
- 6) древляне

Ответ:

3.1	3.2	3.3
2, 4, 6	4, 5, 6	1, 2, 3

Критерии оценивания: за каждый верный ответ - 1 балл, всего 9 баллов.

Задание № 4. Выберите один правильный ответ. Впишите ответ в таблицу.

4.1. Что означает термин «костяк»?

- 1) натуральный набор, взимавшийся с нерусских народов Поволжья, Приуралья и Сибири
- 2) устаревшее русское название народности халты
- 3) прежнее название марийцев

4.2. В каком году был издан **Наказ** Федора Ивановича о строительстве города в Сургуте?

- 1) 1594 г.
- 2) 1595 г.
- 3) 1589 г.

4.3. В каком году начался стремительный поход казачьего отряда атамана Ермака Тимофеевича в Сибирь?

- 1) 1581 г.
- 2) 1582 г.
- 3) 1583 г.

Ответ:

4.1	4.2	4.3
2	2	3

Критерии оценивания: за каждый верный ответ - 1 балл, всего - 3 балла.

Задание № 5. Определите хронологический порядок событий. Запишите буквенные обозначения событий в хронологическом порядке в приведенную таблицу.

- 5.1. А) Начало правления Ивана III
- Б) Укрепление патриаршества
- В) Год начала в России семнобожества
- Г) Начало введения заповедных лес
- Д) Огмена местничества
- Е) Венчание Ивана IV на царство

- 5.2. А) экспедиция В. Атласова на Камчатку
- Б) исследование В. Поярковым р. Амур, Сибири

В) открытие С. Дежневым пролива
 Д) открытие Х. Колумбом Америки

Г) поход Е. Хабарова по р. Амур
 Е) экспедиция М. Стадухина в Восточную Сибирь

5.3. А) Издание Уложения о службе
 Б) заключение Пяцкого пермирия
 Д) начало формирования Второго ополчения







Б) начало проведения политики опричнины
 Г) учреждение в России патриаршества
 Е) битва при Молодях

Ответ:

	1	2	3	4	5	6
5.1	В	А	А	Д	В	Б
5.2	А	Б	В	Б	Г	Д
5.3	Б	В	ВГА	Б	Г	Е

Критерии оценивания: за каждый верный ответ - 1 балл, всего - 18 баллов.

Задание № 6. Внимательно рассмотрите изображения и выполните задания.

А		Б	
В		Г	
Д		Е	

6.1. Запишите название населенных пунктов, гербы которых представлены на изображениях.

Ответ:

А	Б	В	Г	Д	Е
Копыт- Михайлов	Сургут	Кобелевская	Иероглифская	Судогово	Копыт-Мих.

6.2. Выпишите букву, обозначающую герб наследного пункта, название которого изначально представлялось как «Ядильный».

Ответ: Б

6.3. Выпишите букву, обозначающую герб населенного пункта, который ранее использовался как поселок Комсомольский.

Ответ: Е

6.4. Выпишите букву, обозначающую герб наследного пункта, название которого по мнению некоторых исследователей, с халтайского переводится как «улыбка».

Ответ: А

Критерии оценивания: за каждый верный ответ - 1 балл, всего - 9 баллов.

Задание № 7. Если вы согласны с утверждением, напишите «да», если не согласны - «нет».

- Высите свои ответы в таблицу.
- Первым российским государем династии Романовых стал Михаил Федорович.
 - Две первые попытки Ивана IV (походы 1547-1548. и 1549-1550гг.) взять столицу Казанского ханства закончились неудачей.
 - Местничество это система распределения служебных должностей в России, независимо от знатности рода.
 - В 1612 г. между Россией и Швецией был заключен Столбовский мирный договор.
 - Учреждение патриаршества в России в 1598 году, закрепило независимость Русской православной церкви от Константинополя.

Ответ:

7.1.	7.2.	7.3.	7.4.	7.5.
нет	да	да	да	нет

Критерии оценивания: за каждый верный ответ - 1 балл, всего - 5 баллов.

Задание № 8. Рассмотрите карту и выполните предложенные задания



- 8.1. Попый самозванец объявился па юго-западе страны в период правления царя Ефим Буйный (напишите имя и фамилию царя).
- 8.2. Под цифрой «1», обозначаща резиденция самозпатца, расположенная близ Москва _____ (напишите название города).
- 8.3. Самозванец, выдававший себя за сына князя П. Грозного, царевича Дмитрия Углицкого, получил прозвище Александр (напишите прозвище)
- 8.4. Под «*» обозначен монастырь, героически выдержавший 16-месячную осаду интервентов - _____ (напишите название монастыря).
- 8.5. Напишите название периода в русской истории, когда происходили события, обозначенные на карте.

Ответ:

8.1. —	<u>Борис Годунов</u>	_____	_____	_____	_____
8.2. +	<u>Тулица</u>	_____	_____	_____	_____
8.3. —	<u>Александр</u>	_____	_____	_____	_____
8.4. +	<u>Троице-Сергиев монастырь</u>	_____	_____	_____	_____
8.5. +	<u>Смут</u>	_____	_____	_____	_____

Критерии оценивания: за каждый правильный ответ - 2 балла, всего - 10 баллов.

Задание № 9. Определите пропущенные в тексте задания, понятия, имена, даты, обозначенные порядковыми номерами. При необходимости при порядковых номерах даются пояснения о характере требуемой вставки. Необходимые вставки впишите под соответствующими номерами в помещенную ниже таблицу.

Жители **1 (название города)** присягнули на верность жене Федора Ивановича Ирине. Но она отказалась от престола и объявила о своем уходе в монастырь. И когда взоры москвитей обратились на **2 (имя и фамилия будущего царя)**, он не был потомком **3 (имя князя)**, но в течение многих лет управлял государством. Народная молва приписала ему смерть царевича **4 (имя царевича)**. В феврале 1598г. когда истекло время траура по Федору Ивановичу, в Кремле собрались **5 (название сословно-представительного органа)**. На нем при активной поддержке патриарха **6 (имя патриарха)** на царство был избран Борис Годунов **7 (годы правления)**. Борис Годунов в отличие от **8 (имя царя)** отказался от политики устранения своих недоброжелателей и массовых казней. Однако со своими недругами Борис поступал жестоко. Так, по ложному обвинению были арестованы бояре **9 (фамилии бояр)**, двоюродные братья царя Федора Ивановича. Старший из братьев, Федор Никитич, был пострижен в монахи и под именем **10 (имя)** отправлен в один из северных монастырей. Трое младших братьев вскоре умерли в ссылке.

Ответ:

1. +	Москва
2. +	Борис Годунов
3. -	Иван Грозный
4. +	Дмитрий Иванович
5. +	Земский собор
6. +	Иов
7. 0	
8. +	Иван IV
9. +	Васильев
10. 0	

Критерии оценивания: за каждый верный ответ - 2 балла, всего - 20 баллов.

8 класс

Инструкция по выполнению работ
Время на выполнение работы – 90 минут.
Максимальное количество баллов – 100.

Вам предлагается выполнить задания школьного этапа Олимпиады. Просим внимательно прочесть формулировку каждого задания, чтобы дать ответ на поставленные вопросы в той форме, которую предполагаем каждое задание. Успехов Вам в выполнении работы!

Шифр 110-8-03

Задание № 1. Выберите один правильный ответ. Выпишите ответы в таблицу.

1.1. В каком году произошли описанные события?

«Поляки понесли такую значительную потерю, писал польский историк XVII в. Коберяцкий, что с ничем нельзя было вознаградить. Колесо фортуны повернулось, и надежда овладеть целым Московским государством рушилась невозвратно... Остатки польского гарнизона в кремле, доведенные до отчаяния голодом, капитулировали. Освобождение российской столицы от интервентов создало условия для восстановления в стране государственной власти».

- А) 1611 г. Б) 1612 г. В) 1610 г. Г) 1558 г.

1.2. Определите по нижеприведенному отрывку, о каком историческом событии идет речь!

«...с возгласом «Братья мои и друзья, держайте!» выскочил воєвода Боброк. Русские воины выехали из дубравы, как выдержавшие соколы удирку в стаю гусынь, высоко подняты знамена грозным воєводою. Были же воины свирепы, как львы, вынырившие на овечьи стада. Яростный удар Засадного полка во фланг и тыл вынужденным переломил ход битвы».

- А) Плевская битва Б) Битва на р. Сима В) Куликовская битва Г) Ледовое побоище.

1.3. Назовите фамилию государственного, военного и политического деятеля, одного из самых приближенных опричников Ивана Грозного?

- А) Сжуратов Б) Шуйский В) Адашев Г) Шереметев

1.4. В каком году Астраханское ханство было окончательно присоединено к России?

- А) 1547 г. Б) 1552 г. В) 1556 г. Г) 1549 г.

1.5. При каком князе во Владимире было начато строительство Успенского собора?

- А) при Юрии Долгоруком В) при Всеволоде Большое Гнездо
Б) при Андрее Боголюбском Г) при Святославe Ярославиче

Ответ:

1.1.	1.2.	1.3.	1.4.	1.5.
Б	В	А	В	Б

Критерии оценивания: за каждый верный ответ - 2 балла, всего -- 10 баллов.

Задание № 2. Какое из перечисленных понятий (имен, дат, событий) является лишним в данном ряду? Лишнее слово или словосочетание зачеркните. Укажите, по какому принципу образован каждый ряд, то есть кратко поясните, что объединяет события (понятия, имена, даты).

А) зипун, терлик, феразь, дарча


Ответ: дарча

Б) 1648г., 1550г., 1650г., 1662г., 1667-1671г., 1649г.

Ответ: _____

В) Дровляне, бужане, явичи, дреговичи, доляжи, кривичи

Ответ: _____



Г) А.Ф. Адашев, Сильвестр, М.И. Воротынский, А.М. Курбский, И.В. Шереметев, И.М. Висковский, В. Шуйский

Ответ: увели

Критерии оценивания: за каждый верный ответ - 1 балл, всего - 16 баллов.

Задание № 3. Выберите три правильных ответа на каждый вопрос. Впишите ответы в таблицу.

3.1. К основным причинам крестовых походов относятся:

- 1) распространение культуры Возрождения
- 2) стремлением освободить Святую землю
- 3) противоречия между католиками и протестантами
- 4) бедственным положением, сложившимся в Европе в результате экономического кризиса и демографической ситуации
- 5) распространение арабами своей веры
- 6) желанием распространить влияние католической Церкви на восток

3.2. Какие современные народы относятся к южным славянам?

- 1) чехи
- 2) поляки
- 3) словаки
- 4) черногорцы
- 5) хорваты
- 6) болгары

3.3. Какие из перечисленных племен относятся к древнегерманским племенам?

- 1) тевтоны
- 2) вятичи
- 3) востготы
- 4) остготы
- 5) кривичи
- 6) древляне

Ответ:

3.1	3.2	3.3
2, 4, 6	4, 5, 6	3, 4, 1

Критерии оценивания: за каждый верный ответ - 1 балл, всего - 9 баллов.

Задание № 4. Выберите один правильный ответ. Впишите ответы в таблицу.

4.1. Что означает термин «остяк»?

- 1) натуральный подбор, взявшийся с перусских народов Поволжья, Приуралья и Сибири
- 2) устаревшее русское название народности хангы
- 3) прежнее название марийцев

4.2. В каком году был издан Наказ Федора Иоанновича о строительстве города в Сургуте?

- 1) 1594 г.
- 2) 1593 г.
- 3) 1589 г.

4.3. В каком году начался стратегический поход казанского отряда владетеля Ермака Тимофеевича в Сибирь?

- 1) 1581 г.
- 2) 1582 г.
- 3) 1583 г.

Ответ:

4.1.	4.2.	4.3.
2	1	1

Критерии оценивания: за каждый верный ответ - 1 балл, всего - 3 балла.

Задание № 5. Определите хронологический порядок событий. Запишите буквенные обозначения событий в хронологическом порядке в приведенную таблицу.

- 5.1. А) Начало правления Ивана III
- Б) Учреждение патриаршества
- В) Год начала в России семибоярщины
- Г) Начало введения заповедных лет
- Д) Отмена местничества
- Е) Венчание Ивана IV на царство

- 5.2. А) экспедиция В. Атласова на Камчатку
- Б) исследование В. Поярковым р. Амур, Сибири

- В) открытие С. Дежневым пролива
 Д) открытие Х. Колумбом Америки

- Г) поход Е. Хабарова по р. Амур
 В) экспедиция М. Стадухина в Восточную Сибирь

- 5.3. А) Издание Уложения о службе
 В) заключение Пюссского перемирия
 Д) начало формирования Второго ополчения

- И) начало проведения политики опричнины
 Г) учреждение в России патриаршества
 Е) битва при Молодях







Ответ:

55

	1	2	3	4	5	6	7
5.1	Г	В		В	А	А	Е
5.2	Г	Г		А	В	В	Е
5.3	Г	А		Е	В	Г	В

Критерии оценивания: за каждый верный ответ - 1 балл, всего - 18 баллов.

Задание № 6. Внимательно рассмотрите изображения и выполните задания.

А		Б	
В		Г	
Д		Е	



6.1. Запишите названия населенных пунктов, гербы которых представлены на изображениях.

Ответ:

А	Б	В	Г	Д	Е
Искра	Арзамас	Калужская область - Дзержинск	Иркутская область - Усть-Илимск	Дзержинск	Искра

6.2. Выпишите букву, обозначающую герб населенного пункта, название которого изначально предполагалось как «Ягодный».

Ответ: Б

6.3. Выпишите букву, обозначающую герб населенного пункта, который ранее именовался как поселок Комсомольский.

Ответ: В

6.4. Выпишите букву, обозначающую герб населенного пункта, название которого по мнению некоторых исследователей, с кантыйского переводится как «кулыбка».

Ответ: Б

Критерии оценивания: за каждый верный ответ - 1 балл, всего - 9 баллов.

Задание № 7. Если вы согласны с утверждением, напишите «да», если не согласны - «нет». Внесите свои ответы в таблицу.

7.1. Первым российским государем династии Романовых стал Михаил Федорович.

7.2. Две первые попытки Ивана IV (походы 1547-1548, и 1549-1550 гг.) взять столицу Казанского ханства закончились неудачей.

7.3. Местничество это система распределения служебных должностей в России, независимо от знатности рода.

7.4. В 1612 г. между Россией и Швецией был заключен Столбовский мирный договор.


7.5. Учреждение патриаршества в России в 1598 году, закрепило независимость Русской православной церкви от Константинополя.

Ответ:

7.1.	7.2.	7.3.	7.4.	7.5.
да	нет	да	нет	нет

Критерии оценивания: за каждый верный ответ - 1 балл, всего - 5 баллов.

Задание № 8. Рассмотрите карту и выпишите предложенные задания



- 8.1. Новый самозванец объявился на юго-западе страны в период правления царя _____ (напишите имя и фамилию царя).
- 8.2. Под цифрой «1», обозначена резиденция самозванца, расположенная близ Москвы _____ (напишите название города).
- 8.3. Самозванец, выдававший себя за сына Ивана IV Грозного, царевича Дмитрия Угличского, получил прозвище _____ (напишите прозвище)
- 8.4. Под «*» обозначен монастырь, героически выдержавший 16-месячную осаду интервентов - _____ (напишите название монастыря).
- 8.5. Напишите название периода в русской истории, когда происходили события, обозначенные на карте.

Ответ:

8.1.	Ипатьевский
8.2.	
8.3.	
8.4.	
8.5.	Смутное время

Критерии оценивания: за каждый верный ответ - 2 балла, всего 10 баллов.

Задание № 9. Определите пропущенные в тексте названия, понятия, имена, даты, обозначенные порядковыми номерами. При необходимости при порядковых номерах даются пояснения о характере требуемой вставки. Необходимые вставки впишите под соответствующими номерами в помещённую ниже таблицу.

Жители 1 (название города) присягнули на верность жене Федора Ивановича Ирине. Но она отказалась от престола и объявила о своем уходе в монастырь. И тогда взоры москвичей обратились на 2 (имя и фамилия будущего царя). Он не был потомком 3 (имя князя), но в течение многих лет управлял государством. Народная молва приписала ему смерть паревича 4 (имя паревича). В феврале 1598г. когда истекло время траура по Федору Ивановичу, в Кремле собрался 5 (название словесно-представительного органа). На нем при активной поддержке патриарха 6 (имя патриарха) на царство был избран Борис Годунов 7 (годы правления). Борис Годунов в отличие от 8 (имя царя) отказался от политики устрашения своих подданных и массовых казней. Однако со своими недругами Борис поступал жестоко. Так, по ложному обвинению были арестованы бояре 9 (фамилии бояр), двоюродные братья царя Федора Ивановича. Старший из братьев, Федор Никитич, был пострижен в монахи и под именем 10 (имя) отправлен в один из северных монастырей. Трое младших братьев вскоре умерли в ссылке.

Ответ:

1.	+	Москва
2.	+	Бориса Годунова
3.		
4.		
5.		
6.		
7.		
8.		
9.		
10.		

Критерии оценивания: за каждый верный ответ - 2 балла, всего - 20 баллов.

10 класс

Инструкция по выполнению работ

Время на выполнение работы – 90 минут.

Максимальное количество баллов – 100.

Вам предлагается выполнить задания школьного этапа Олимпиады. Просим внимательно прочесть формулировку каждого задания, чтобы дать ответ на поставленные вопросы в той форме, которую предполагает каждое задание. Успехов Вам в выполнении работы!

Шифр УС - 10 - 03

Задание 1. Расположите в хронологической последовательности исторические события начала XX века. Укажите ответ в виде последовательности букв выбранных элементов:

- 1.1. А) Гибель «Варяга».
Б) «Кровавое воскресенье».
В) Образование первого Совета
Г) Начало издания газеты «Искра».

4 **Ответ:** 2АВВ

- 1.2. А) Распуск II Государственной думы, новый избирательный закон.
Б) Ленский расстрел, выборы в IV Думу.
В) Убийство П.А. Столыпина
Г) Брусловский прорыв, вступление в войну Румынии.

Ответ: АВВ2

Критерии оценивания: за каждый правильный ответ - 2 балла, всего - 4 балла.

Задание 2. Установите соответствие между правителями России и документами, при них появившимися (или начавшими составляться). Выбранные ответы запишите в таблицу, отметив соответствующей буквой:

2.1. Соотнесите имена исторических личностей и названия документов:

1	Ярослав Мудрый	А	Второй общерусский Судебник
2	Иван III Великий	Б	«Юности и честное зерно».
3	Александр Михайлович Тихайский	В	Первый общерусский Судебник
4	Петр I	Г	«Русская правда»
5	Иван IV Грозный	Д	Соборное уложение

2.2. Установите соответствие между деятелями культуры XVII в. и их произведениями.

1	Симон Ушаков	А	«Домострой»
2	Василий Огурцов и др.	Б	«Спас Нерукотворный»
3	Мелетий Смотрицкий	В	«Грамматика»
4	Сильвестр	Г	Создание придворного театра
5	Артамов Магнсен	Д	Геремной дворец Московского Кремля

2.3. Установите соответствие между правителями России и подписанными ими международными договорами:

1	Михаил Федорович	А	Нячудинский мир
2	Екатерина II	Б	Столбовский мир
3	Алексей Михайлович	В	Ям-Запольское перемирие с Польшей и Илосекское перемирие со Шведией
4	Петр I	Г	Апдруссовское перемирие
5	Иван IV Грозный	Д	Москвитинский мир

Ответ:

	1	2	3	4	5
2.1	Б	Г	Д	А	В
2.2	Б	В	В	А	Г
2.3	В	Д	Б	А	Г

Критерии оценивания: за каждый верный ответ - 1 балл, всего - 15 баллов.

Задание 3. Россия в войнах. Из предложенного списка событий и имен составьте таблицу, расположив события в хронологической последовательности

Сражение	Война	Русский полководец	Противник
Бой у деревни Залесный	Северная война	Петр I	Карл XII
Сражение при Кунерсдорфе	Семилетняя война	Салтыков	Фридрих II
Сражение на реке Чамчик	Русско-турецкая война	Суворов	Гусейн-хан

Петр I, Русско-турецкая война; сражение у Кунерсдорфа; Гусейн хан; Северная война; Семилетняя война; И.С. Салтыков; сражение на р. Чамчик; Фридрих II, Карл XII; бой у деревни Залесный, А.В. Суворов.

Критерии оценивания: за каждый верный ответ - 2 балла, всего - 6 баллов.

Задание 4. Литература - история. Ответьте на поставленный вопрос, указав ключевые фразы по которым Вы определили ответ.

4.1. Поэма Н.А. Некрасова «Кому на Руси жить хорошо» начинается так:

В каком году - расчитывай,
В какой земле - угадывай,
На сибирской дорожке
Сопишь семь мужиков:
Семь временнообязанных...
Когда могла произойти эта встреча?

Ответ: после отмены крепостного права

4.2. В. Рождественский. Десятинадцатый век,

... Ты был мне юнцом, не владетель зла,
И я любил твои наивные прихвастья:
Охоты и бабы, запретной встречи счастье,
Горячку и озноб зеленого стола.

... Мне грустно, что гонимый не падает похлывать
На тропе бегеной невест голубоглазых,
Что в рудниках Чигы, в карежный полк Кавказа
Нам больше не приятен благословенный мать...

Какие два исторических события упомянуты в этом поэтическом отрывке?

Ответ:

4.3. Это стихотворение А.С. Пушкина посвящено одному из героев войны 1812 г. Назовите его имя.

О, вождь несчастливый! Суров был жребий твой:

Все в жертву ты принеся земле чуждой.

Цепищиасмый для взгляда черни динкой.

В молчашья шел один ты с мышию великой.

И, в имени твоем звук чуждый не влюбля,

Своими криками преследуют тебя,

Народ, таинственно спасаемый тобою,

Ругался на: твоей свещенной седпной.

Ответ: Батюшки

Критерии оценивания: за каждый верный ответ - 2 балла, всего - 6 баллов.

5. Заполните пропуски в тексте:

Назначенный Николаем I министр финансов (1) _ проводил политику поощрения развития отечественной промышленности и торговли, а также экономии средств казны. Подготовленная им финансовая реформа была проведена в (2) . Суть реформы: были введены бумажные ассигнации, которые обеспечивались (3) . Новые бумажные деньги можно было обменивать на серебряные, что значительно повысило устойчивость и доверие к новым деньгам. Вследствие этого инфляция уменьшилась, бюджет стал (4) _ (доходы его превышали расходы). Однако вскоре вновь началось печатание бумажных денег, не обеспеченных драгоценными металлами, инфляция вновь стала увеличиваться. Сильным ударом по покрепшей российской финансовой системе стали огромные затраты на (5) _ войну.

Ответ:

1	2	3	4	5
<u>Селезнев</u>	<u>1839 - 1843</u>	<u>Серебрян. металл</u>		<u>Крымская</u>

Критерии оценивания: за каждый верный ответ - 1 балла, всего - 5 баллов.

Задаче 6. Прочитайте текст и найдите по две ошибки в каждом отрывке. Исправьте положения текста, назвав верное утверждение.

6.1. Николай I по-новому организовал деятельность политической полиции и поставил ее под свой личный контроль. В 1826 году было создано III отделение Собственной Его Императорского Величества канцелярии. Ему поручались политические дела и контроль за построениями уездов. Отделы III Отделения были созданы и на местах. Для наведения нужного властям порядка в распоряжении шефа III отделения находилась и вооруженная сила корпуса жандармов. Шефом III отделения и корпуса жандармов был назначен особый доверием царя генерал В.Ф.Каткрит. Для обуздания «распутывшейся» печати Николай поставил ее под жесткий контроль цензуры. Цензурный устав 1826г. был мягко назван современниками «деревянными».

6.2. Александр III не одобрял призываний крестьян на помещичьи земли и рекомендовал им стать более самостоятельными хозяевами. В то же время в 1830-е годы власти отменили подворную подать, сняли выкупные платежи и учредили Крестьянский банк. В 1889 году по инициативе Д.А. Толстого был учрежден институт особых чиновников - мировых посредников. Они стали полноправными хозяевами в деревне и могли отменить любое решение сельских сходов и волостных судов.

6.3. В 50-е годы XII века появились политики нового поколения, которые не признавали первенство киевского престола. К ним принадлежал суздальский князь Ярослав Осмомысл. В отличие от своего отца - Юрия Долгорукого, он не стал добиваться киевского престола. Став великим князем, он перенес свой «сезон» из Суздаля в Нижний Новгород, а в Киев сажал князей, находившихся в его подчинении.

Ответ:

№ задания	Подписание текста, в котором допущена ошибка.	Исходительное положение текста.
6.1.	1. <i>Колумбин</i> 2. «деревянный» устав	1. <i>Бенкендорф</i> 2. «узурпатор» устав
6.2.	1. <i>подпоручик подполк</i> 2.	1. <i>поручик подполк</i> 2.
6.3.	1. 2. <i>Иванов Наваро</i>	1. 2. <i>Владимир</i>

46

Критерии оценивания: за каждый верный ответ - 1 балл, всего - 6 баллов.

7. Укажите, по какому принципу образован каждый ряд.

7.1. Многоукладность, модернизация, монополия, экстенсивный путь.

Ответ: _____

7.2. Англика, британка, «оконная война», прорыв.

Ответ: *Турция, Германия, Япония*

7.3. «Кровавое воскресенье», Манифест 17 октября, стачка, стачка.

Ответ: *Турция, революция в России 1905-1907*

7.4. Капитализация, отруб, переселение, хутор.

Ответ: *Реформа, отруб, переселение*

Критерии оценивания: за каждый верный ответ - 1 балл, всего - 4 балла.

8. Назовите фамилии певцов.

8.1. Она открыла миру русское искусство. После сцены знаменитых «Русских сезонов». В Париже мир заговорил о Баксте, Бенуа, Стравинском и русском балете. Поддерживал многих художников и музыкантов, основал журнал «Мир искусства».

Ответ: *Бенуа*

8.2. На средства этой семьи в Москве были построены университетские клиники, институт для исследования и лечения раковых опухолей, родильный дом, психиатрическая больница. Одна из детских больниц до сих пор носит его имя.

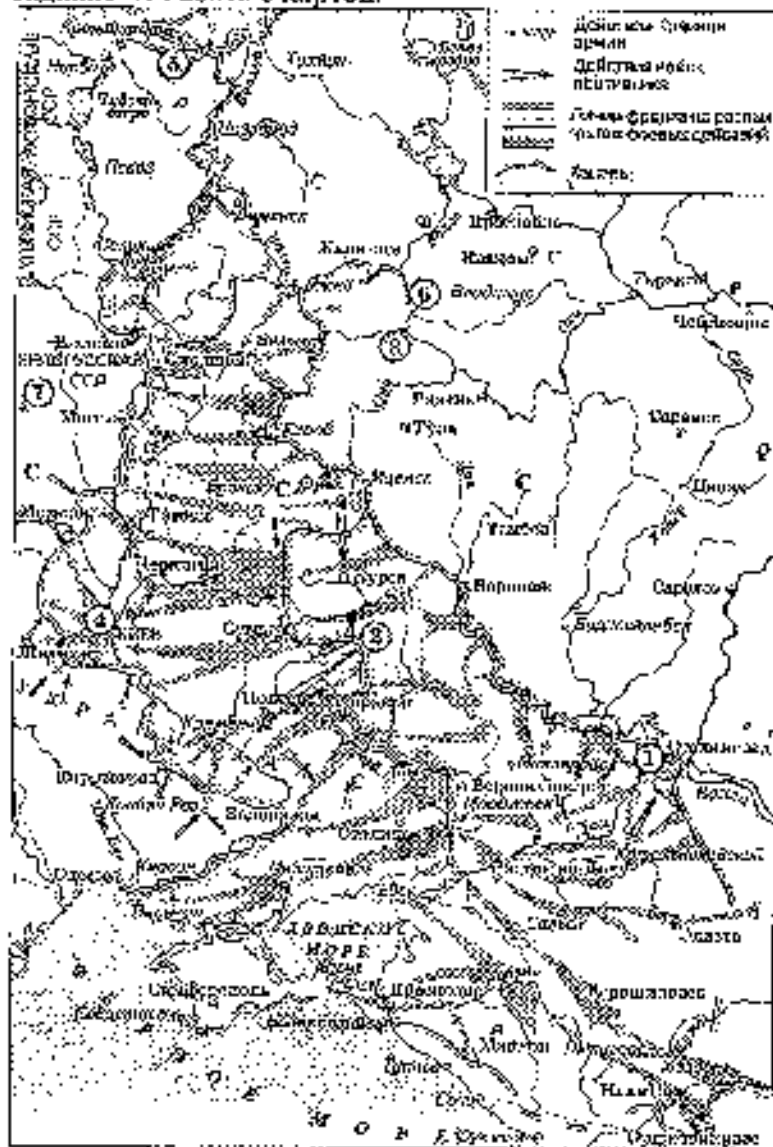
Ответ: *Морозов*

8.3. Эту семью называли «профессиональными благотворителями». Она основала много больниц, училищ, приютов не только в Москве, но и в своем Зарайске. Сейчас их имя носит основанный ими Музей центрального искусства в Москве.

Ответ: *Мамонтово*

Критерии оценивания: за каждый верный ответ - 3 балла, всего - 9 баллов.

Задание 9. Работа с картой.



9.1. Назовите город, обозначенный на карте цифрой 7. В каком году он был освобожден от немецко-фашистских захватчиков?

60

Ответ: Варшава, 1944

9.2. Укажите месяц, когда от фашистов был освобожден город, обозначенный на схеме цифрой «2».

Ответ: февраль

9.3. Укажите название операции по уничтожению окруженной немецкой группировки, обозначенной на схеме цифрой «1».

Ответ: Умань

Критерии оценивания: за каждый верный ответ - 2 балла, всего - 6 баллов.

10. Работа с персоналиями: назовите фамилии известных личностей.

10.1. Военный министр в первом составе Временного правительства, ушел в отставку после первого кризиса Временного правительства.

10.2. Министр юстиции в первом составе Временного правительства, затем военный министр, в июле-октябре 1917 г. - первый министр.

10.3. Председатель СНК СССР в 1930-е годы; Нарком иностранных дел в 1939 г., подписал пакт о ненападении с Германией.

10.4. Первый русский писатель - лауреат Нобелевской премии, эмигрант.

10.5. Возглавлял Ленинградскую парторганизацию; был убит при военных операциях в 1934 г.

10.6. Генерал Красной Армии, предатель; перешел на службу к фашистам, создал Русскую освободительную армию.

10.7. Немецкий военачальник, был взят в плен под Сталинградом.

10.8. Писатель, лауреат Нобелевской премии, автор «Архивага ГУИАГ», выслан из СССР за «капиталистическую проповедь».

86

10.1.	10.2.	10.3.	10.4.	10.5.	10.6.	10.7.	10.8.
Лермонтов			Бунин		Зилов		

Критерии оценивания: за каждый верный ответ - 2 балла, всего - 16 баллов.

11. Вопросы по истории ХМАО.

1. Когда появилось первое упоминание Югры в русских летописях?
а) 596 г. б) 896 г. в) 1096 г. г) 1796 г.
2. Когда были образованы уфимские княжества?
а) X в. б) XI в. в) XII в. г) XV в.
3. Когда был основан русский город Тюмень?
а) 786 г. б) 886 г. в) 1086 г. г) 1586 г.
4. В каком году был основан русский город Сургут? а) 794 г. б) 894 г. в) 1094 г. г) 1594 г.
5. Когда был подписан Указ Петра I о массовом крещении сибирских народов, включая ханты и манси? а) 1703 г. б) 1705 г. в) 1708 г. г) 1710 г.
6. Когда в Самаре была проложена первая телеграфная линия?
а) 1709 г. б) 1809 г. в) 1905 г. г) 1909 г.
7. Когда состоялась первая конференция представителей коренных народов Севера в селе Самарово? а) 1912 г. б) 1922 г. в) 1932 г. г) 1942 г.
8. С какого года коренные народы Севера освобождались от уплаты налогов и сборов?
а) 1897 г. б) 1907 г. в) 1927 г. г) 1937 г.
9. В каком году окружной центр Остяко-Вогульский переименован в Ханты-Мансийск, а округ в Ханты-Мансийский? а) 1920 г. б) 1930 г. в) 1940 г. г) 1950 г.
10. В каком году Ханты-Мансийский округ вошел в состав новообразованной Тюменской области?
а) 1941 г. б) 1942 г. в) 1943 г. г) 1944 г.
11. В каком городе Ханты-Мансийску присвоен статус города? а) 1930 г. б) 1940 г. в) 1945 г. г) 1950 г.
12. В каком году в округе открыто автобусное движение и регулярное радиовещание?
а) 1932 г. б) 1942 г. в) 1952 г. г) 1962 г.
13. Как называется мужская одежда коренных жителей из шкуры оленя?
а) палица б) маньца в) оленьца г) жинца
14. Как называют шубу с мехом (паруху)? а) олка б) шоха в) моха г) доха
15. Назовите дату образования Остяко-Вогульского национального округа.
а) 1920 г. б) 1930 г. в) 1940 г. г) 1950 г.

1	2	3	4	5	6	7	8	9	10	11	12	13	14	15
в	б	в	г	а	а	б	г	в	б	а	г	а	б	в

Критерии оценивания: за каждый верный ответ - 1 балл, всего - 15 баллов.

85

Задание 12. Рассмотрите изображение и ответьте на вопросы.



12.1. Назовите дату изображенного события.

66
Ответ: 1653 г.

12.2. Какое название имеет это событие в истории России?

Ответ: Украинская Рава

12.3. Как отреагировало правительство России на это событие?

Ответ: _____

12.4. Какие внешнеполитические последствия для России в то время имело это событие?

Ответ: Нарушило русско-польские войны

Критерии оценивания: за каждый первый ответ - 2 балла, всего 8 баллов.